

## THỬ THÁCH CUỐI TUẦN MÔN TOÁN – LỚP 2

Họ và tên: ..... Lớp: .....

### THỬ THÁCH 1

**Em hãy ôn lại các kiến thức Toán đã học trong tuần 31:**

Kiến thức trọng tâm	Nội dung cần nhớ
Luyện tập chung	- Thực hiện phép cộng, trừ (không nhớ và có nhớ) trong phạm vi 1 000 (theo kiến thức đã học). - Thực hiện tính toán trong trường hợp có hai dấu phép tính cộng, trừ: cần tính theo thứ tự từ trái sang phải. Mẫu: $800 - 200 + 135 = 600 + 135 = 735$ - Phân tích được đề bài toán có lời văn và thực hiện giải bài toán.
Thu thập, phân loại, kiểm đếm số lượng	Thực hiện việc thu thập, phân loại, kiểm đếm các đối tượng thống kê theo yêu cầu. Lưu ý quan sát, đếm đúng và đủ số lượng các đối tượng, sau đó điền đúng số lượng thống kê.
Biểu đồ tranh	- Nhận biết được biểu đồ tranh. - Đọc và mô tả được số liệu trên biểu đồ tranh. - Nêu được một số nhận xét đơn giản từ biểu đồ tranh.

### THỬ THÁCH 2

#### 1. Đặt tính rồi tính.

$372 + 564$

$839 - 65$

$927 - 735$

$548 + 47$

.....

.....

.....

.....

.....

.....

.....

.....































.....

.....

.....

.....

#### 2. Biểu đồ dưới đây cho biết số thú bông của một cửa hàng đã bán được trong một ngày.

Gấu bông									
Thỏ bông									
Sóc bông									
Chó bông									

Viết tiếp vào chỗ chấm cho thích hợp.

a) Số thú bông bán được mỗi loại là:

..... gấu bông; ..... thỏ bông; ..... sóc bông; ..... chó bông.

