

PHÒNG GIÁO DỤC VÀ ĐÀO TẠO THỊ XÃ BUÔN HỒ
TRƯỜNG TIỂU HỌC QUANG TRUNG

MA TRẬN ĐỀ KIỂM TRA MÔN TIN HỌC CUỐI KÌ I - LỚP 5
NĂM HỌC 2022- 2023

Mạch kiến thức, kỹ năng	Số câu, số điểm	Mức 1		Mức 2		Mức 3		Mức 4		Tổng	
		TN	TH	TN	TH	TN	TH	TN	TH	TN	TH
1. Các phần mềm hữu ích	Số câu	2		2						4	
	Số điểm	1.0		1.0						2.0	
	Câu số	1;4		2;3						1;2;3;4	
2. Phần mềm MSW Logo	Số câu	2		1	1		1		1	3	3
	Số điểm	1.0		1.0	2.0		3.0		1.0	2.0	6.0
	Câu số	5;7		6	8		9		10	5;6;7	8;9;10
Tổng	Số câu	4		3	1		1		1	7	3
	Số điểm	2.0		2.0	2.0		3.0		1.0	4.0	6.0

PHÒNG GIÁO DỤC VÀ ĐÀO TẠO THỊ XÃ BUÔN HỒ
TRƯỜNG TIỂU HỌC QUANG TRUNG

**ĐỀ KIỂM TRA MÔN TIN HỌC CUỐI KÌ I - LỚP 5.
NĂM HỌC 2022- 2023**

A. PHẦN LÝ THUYẾT (4 điểm)

Câu 1: (0.5đ) (M1) Trong chương trình Tin học lớp 5, em đã được học biên tập một đoạn phim với phần mềm nào?

- A. MS PowerPoint
B. Windows Movie Maker
C. MSW Logo
D. Encore

Câu 2: (0.5đ) (M2) Trong phần mềm Windown Movie Maker, để chèn một hình ảnh em thực hiện thao tác nào sau đây?

- A. Vào capture video -> import pictures
B. Vào capture video -> import video
C. Vào edit movie -> import pictures
D. Vào finish movie -> import pictures

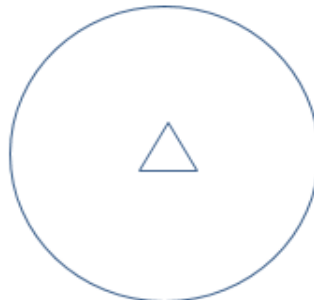
Câu 3: (0.5đ) (M2) Tập tin hoặc thư mục sau khi được nén bằng phần mềm “ 7 – zip” có tên đầy đủ là gì?

- A. “tên file.zip”
B. “tên file - zip”
C. “tên file.7z”
D. Cả A và C đều đúng

Câu 4: (0.5đ) (M1) Em sử dụng ứng dụng nào dưới đây để tra từ điển?

- A. Google Map
B. Google Meet
C. Google Play
D. Google Translate

Câu 5: (0.5đ) (M1) Em cần sử dụng lệnh nào để vẽ được hình bên dưới?



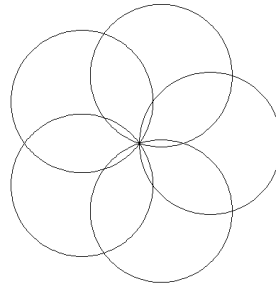
- A. Ellipse2 50 100
B. Ellipse 50 100
C. Circle 100
D. Circle2 100

Câu 6: (1.0đ) (M2) Em hãy nối ý ở cột A với ý ở Cột B sao cho thích hợp:

Cột A
Repeat 8[fd 100 rt 72]
Circle 150
Setpc 4
Repeat 5[fd 100 rt 72]

Cột B
Vẽ hình ngũ giác đều
Vẽ hình bát giác đều
Vẽ hình tròn bán kính 150
Đổi màu bút vẽ là màu đỏ

Câu 7: (0.5đ) (M1) Em sử dụng nhóm lệnh nào để vẽ được hình bên dưới

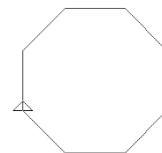


- A. REPEAT 2 [CIRCLE2 100 RT 360/2]
- B. REPEAT 3 [CIRCLE2 100 RT 360/3]
- C. REPEAT 4 [CIRCLE2 100 RT 360/4]
- D. REPEAT 5 [CIRCLE2 100 RT 360/5]

B. PHẦN THỰC HÀNH (6 điểm)

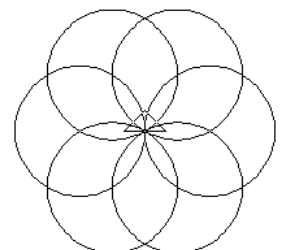
Câu 8: (2.0đ) (M2)

Em hãy dùng lệnh đã học trong Logo để vẽ mẫu hình dưới có độ dài cạnh 50 sau:

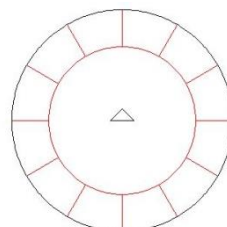


Câu 9: (3.0đ) (M3)

Em hãy dùng lệnh lặp trong Logo để vẽ hình bên:



Câu 10: (1.0đ) (M1) Em hãy sử dụng MSW Logo để vẽ hình theo mẫu. (3 điểm)



HƯỚNG DẪN ĐÁP ÁN MÔN TIN HỌC LỚP 5

A. PHẦN LÝ THUYẾT: Mỗi câu đúng được 0.5 điểm

Câu 1: B

Câu 2: A

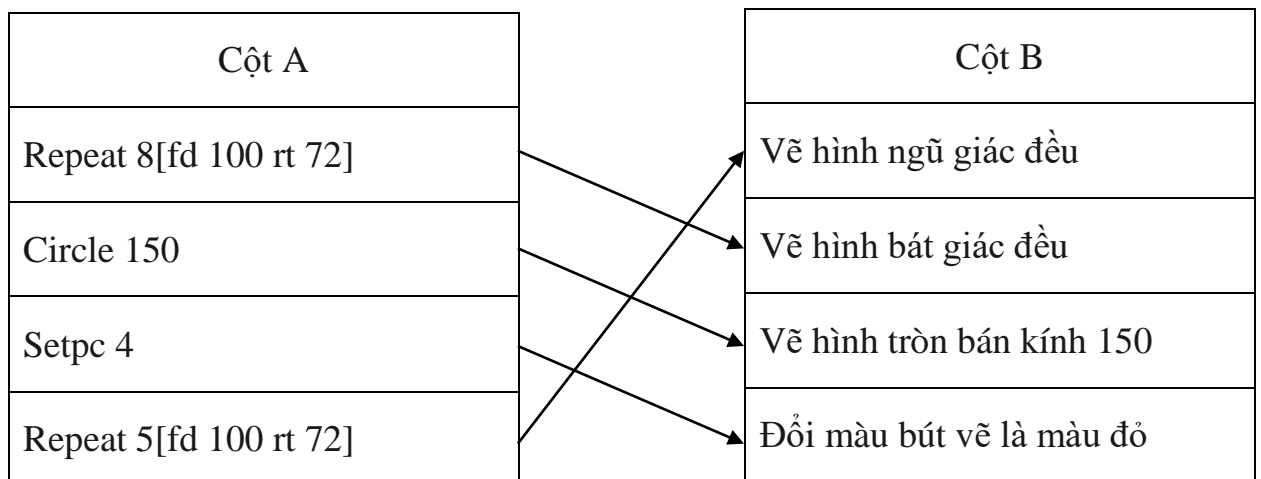
Câu 3: D

Câu 4: D

Câu 5: C

Câu 7: D

Câu 6: 1.0 điểm



B. PHẦN THỰC HÀNH

Câu	Yêu cầu	Điểm
8	Repeat 8 [fd 100 rt 45]	2.0
9	Repeat 6 [circle2 100 rt 360/6]	3.5
10	Circle 100 Circle 200 Repeat 12[pu fd 100 pd fd 100 pu bk 200 pd rt 360/12]	1.0

Duyệt đề