

**MA TRẬN CÂU HỎI ĐỀ KIỂM TRA MÔN TOÁN CUỐI KÌ I LỚP 1**

Mạch KT - KN	STT	Yêu cầu cần đạt	Số câu, số điểm	Mức 1		Mức 2		Mức 3		Tổng	
				TN	TL	TN	TL	TN	TL	TN	TL
<b>Số và phép tính</b>	1	Đếm, đọc, viết được các số trong phạm vi 10. Năng lực tư duy toán học	Số câu	1						1	0
			Câu số	1							
			Số điểm	1						1	0
	2	Thực hiện được phép tính cộng, trừ trong phạm vi 10	Số câu			1			0	1	
			Câu số			6					
			Số điểm			1			0	1	
	3	So sánh, sắp xếp được thứ tự các số trong phạm vi 10.	Số câu		1	1			0	2	
			Câu số		4	5			0		
			Số điểm		1	1			0	2	
	4	Thực hiện được việc cộng, trừ nhẩm trong phạm vi 10. Năng lực tư duy và lập luận.	Số câu		1	1	1		0	3	
			Câu số		3	7	8				
			Số điểm		1	1	1		1	2	
	5	Vận dụng được phép tính cộng, trừ vào tình huống thực tiễn. Năng lực mô hình hoá toán học.	Số câu					2	0	2	
			Câu số					9,10			
			Số điểm							2	
<b>Hình học</b>	6	Gọi được tên các hình tam giác, hình chữ nhật, khối hộp chữ nhật	Số câu	1					1	0	
			Câu số	2							
			Số điểm	1					1	0	
<b>Tổng</b>			Số câu	<b>2</b>	<b>2</b>	<b>1</b>	<b>3</b>	<b>0</b>	<b>2</b>	<b>3</b>	<b>7</b>
			Số điểm	<b>2</b>	<b>2</b>	<b>1</b>	<b>3</b>	<b>0</b>	<b>2</b>	<b>3</b>	<b>7</b>

**TRƯỜNG TIỂU HỌC QUANG TRUNG**


**ĐỀ KIỂM TRA ĐỊNH KÌ CUỐI KÌ I NĂM HỌC 2022- 2023.**

**MÔN: TOÁN**


**Bài 1.** M1( 1 điểm) Khoanh vào đáp án đúng:

Có mấy con heo:

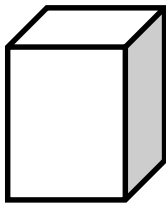
- A.1      B.2      C. 3      D.4



**Bài 2.** M1(1 điểm) Nối hình vẽ với tên của hình



Hình chữ nhật



Khối hộp chữ nhật



Hình tam giác

**Bài 3.** M1(1 điểm) Tính:

$2 + 7 = \dots\dots$        $1 + 9 = \dots\dots$        $8 - 6 = \dots$        $10 - 5 = \dots\dots$

**Bài 4.** M1(1 điểm) Sắp xếp các số 5, 9, 3, 6, 0 theo thứ tự từ bé đến lớn:

.....

**Bài 5.** M2(1 điểm)  $> < = ?$

$3 + 6 \dots\dots 8 - 2$

$7 + 3 \dots\dots 10 + 0$

$10 - 6 \dots\dots 6 + 0$

$2 + 4 \dots\dots 10 - 3$

**Bài 6.** M2( 1 điểm) Nối:

$4 + 5$

$2 + 8$

10

3

9

6

**Bài 7.** M2 (1 điểm) Số?

$5 - 2$

$9 - 3$

$3 + \dots = 8$

$\dots - 5 = 4$

$\dots + 3 = 10$

$7 - \dots = 3$

**Bài 8.** M2 (1 điểm) Tính:

$9 - 5 - 2 = \dots\dots\dots$

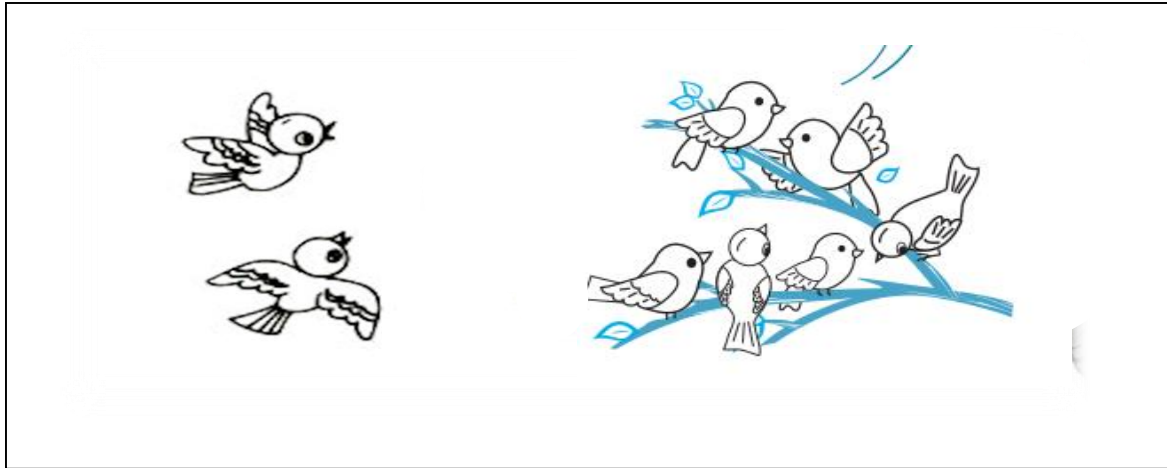
$3 - 0 + 5 = \dots\dots\dots$

**Bài 9.** M3 (1 điểm) Điền số thích hợp vào ô trống:

	-		=	5
--	---	--	---	---

	+		=	7
--	---	--	---	---

**Bài 10.** M3(1 điểm) Nhìn tranh em hãy viết phép tính thích hợp vào ô trống:



--	--	--	--	--

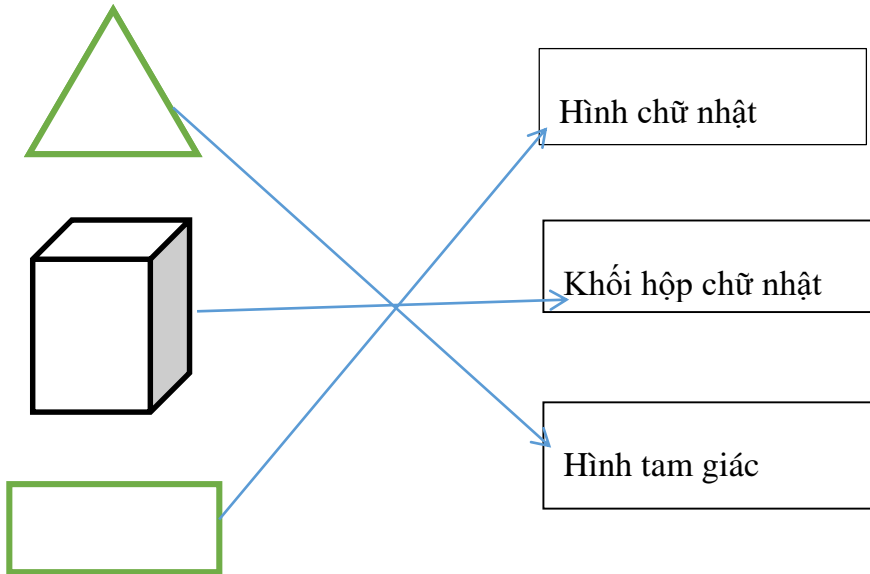
TRƯỜNG TIỂU HỌC QUANG TRUNG

ĐÁP ÁN VÀ HƯỚNG DẪN CHẤM ĐIỂM MÔN TOÁN

**Bài 1:** M1(1 điểm)

D. 4

**Bài 2.** M1(1 điểm)



**Bài 3:** M1(1 điểm) Tính (1 điểm)

$$2 + 7 = 9$$

$$1 + 9 = 10$$

$$8 - 6 = 2$$

$$10 - 5 = 5$$

**Bài 4:** M1(1 điểm) Sắp xếp các số 5, 9, 3, 6, 0 theo thứ tự từ bé đến lớn: 0, 3, 5, 6, 9. (1 điểm)

**Bài 5:** M2 (1 điểm) <, >, = ? (1 điểm, mỗi ý đúng được 0,25đ)

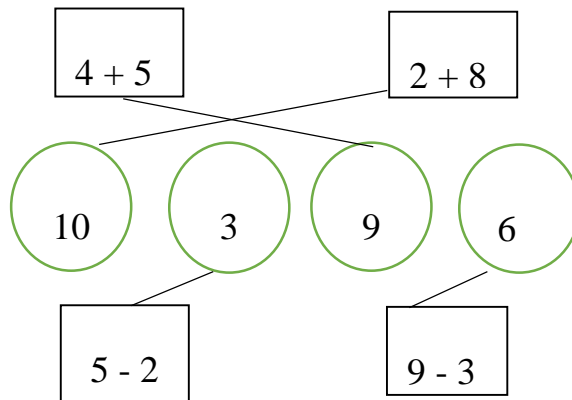
$$3 + 6 > 8 - 2$$

$$7 + 3 = 10 + 0$$

$$10 - 6 < 6 + 0$$

$$2 + 4 < 10 - 3$$

**Bài 6.** M2( 1 điểm) Nối:



**Bài 7:** M2 (1 điểm) Số? (1 điểm, mỗi ý đúng được 0,25đ)

$3 + 5 = 8$

$9 - 5 = 4$

$7 + 3 = 10$

$7 - 4 = 3$

**Bài 8:** M2 (1 điểm) Điền số thích hợp vào ô trống( Điền đúng số mỗi ý được 0,5 điểm)

$9 - 5 - 2 = 2$

$3 - 0 + 5 = 8$

**Bài 9:** (M3 - 1 điểm, mỗi ý đúng được 0,5đ)

Học sinh có thể điền các số khác vào ô trống có kết quả là 5 hoặc 7 đều đúng.

5	-	0	=	5
---	---	---	---	---

2	+	3	=	5
---	---	---	---	---

4	+	3	=	7
---	---	---	---	---

0	+	7	=	7
---	---	---	---	---

**Bài 10:** M3 (1 điểm)

6	+	2	=	8
---	---	---	---	---

Hoặc:

2	+	6	=	8
---	---	---	---	---

Người duyệt